

19.10.2023

Група 23

Математика (алгебра)

Урок 5

**Тема:** Застосування похідної до дослідження функції та побудови їхніх графіків

**Мета:**

- Повторити теоретичний матеріал; узагальнити, систематизувати та поглибити знання учнів із теми; застосувати математичні знання під час розв'язування прикладних задач; формувати просторову уяву;
- розвивати в учнів пізнавальний інтерес, уміння використовувати набуті знання, навички й уміння в нових ситуаціях; підвищити інтерес до вивчення математики; розвивати абстрактне та логічне мислення;
- виховувати у учнів повагу та зацікавленість до вивчення математики, старанність у навчанні; сприяти розширенню кругозору учнів.

#### Матеріали до уроку:

Коли в попередніх класах вам доводилося будувати графіки, ви зазвичай поступали так: позначали на координатній площині деяку кількість точок, які належать графіку, а потім сполучали їх. Точність побудови залежала від кількості позначених точок.

На рисунку 25.1 зображено кілька точок, які належать графіку деякої функції  $y = f(x)$ . Ці точки можна сполучити по-різному, наприклад так, як показано на рисунках 25.2 і 25.3.

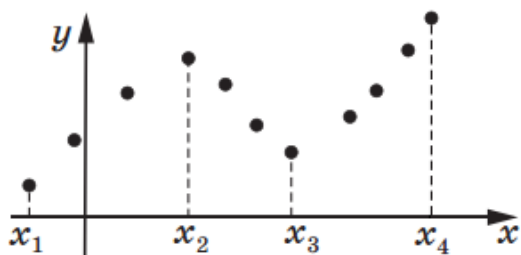


Рис. 25.1

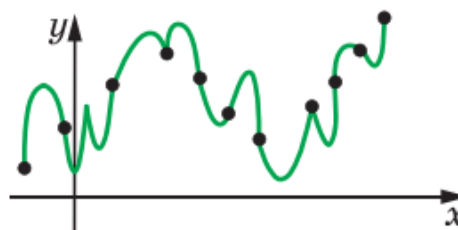


Рис. 25.2

Проте якщо знати, що функція  $f$  зростає на кожному з проміжків  $[x_1; x_2]$  і  $[x_3; x_4]$ , спадає на проміжку  $[x_2; x_3]$  і є диференційовною, то скоріше за все буде побудовано графік, зображений на рисунку 25.4.

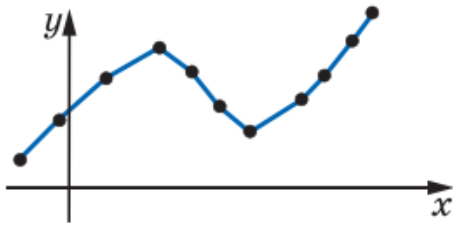


Рис. 25.3

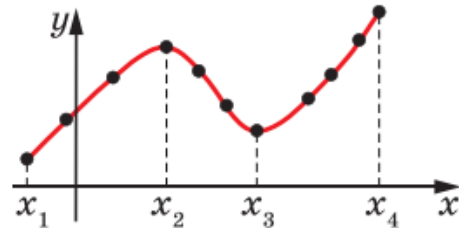


Рис. 25.4

Ви знаєте, які особливості притаманні графікам парної, непарної, періодичної функцій тощо. Узагалі, чим більше властивостей функції вдається з'ясувати, тим точніше можна побудувати її графік.

Дослідження властивостей функції проводитимемо за таким планом.

1. Знайти область визначення функції.
2. Дослідити функцію на парність.
3. Знайти нулі функції.
4. Знайти проміжки зростання і спадання функції.
5. Знайти точки екстремуму та значення функції в точках екстремуму.
6. Виявити інші особливості функції (періодичність функції, поведінку функції в околах окремих важливих точок тощо).

Зауважимо, що наведений план дослідження носить рекомендаційний характер та не є сталим і вичерпним. Під час дослідження функції важливо виявити такі її властивості, які дадуть змогу коректно побудувати графік.

1. Дослідити функції та побудувати їх графіки:

$$1) f(x) = 3x - x^3 - 2$$

1. Область определения.  $D(y) = \mathbb{R}$ .

2. Парность и непарность.  $f(-x) = 3 \cdot (-x) - (-x)^3 - 2 = -3x + x^3 - 2$  — ни парна, ни непарна.

3. Нули функции:

$$3x - x^3 - 2 = 0$$

$$-x^3 + 3x - 2 = 0 \quad | \times (-1)$$

$$x^3 - 3x + 2 = 0$$

$$x^3 - x - 2x + 2 = 0$$

$$x(x^2 - 1) - 2(x - 1) = 0$$

$$(x - 1)(x(x + 1) - 2) = 0$$

$$(x - 1)(x^2 + x - 2) = 0$$

$$x - 1 = 0 \quad x^2 + x - 2 = 0$$

$$x_1 = 1 \quad x_2 = -2 \quad x_3 = 1 = x_1$$

4. Промежки возрастания и спада функции:


$$f'(x) = 3 \cdot 1 \cdot x^{-1} - 3 \cdot x^{3-1} - 0 = 3 \cdot 1 - 3x^2 = 3 - 3x^2$$

$$3 - 3x^2 = 0$$

$$-3x^2 = -3$$

$$x^2 = 1$$

$$x_1 = 1 \quad x_2 = -1$$



Функция возрастает:  $[-1; 1]$ .

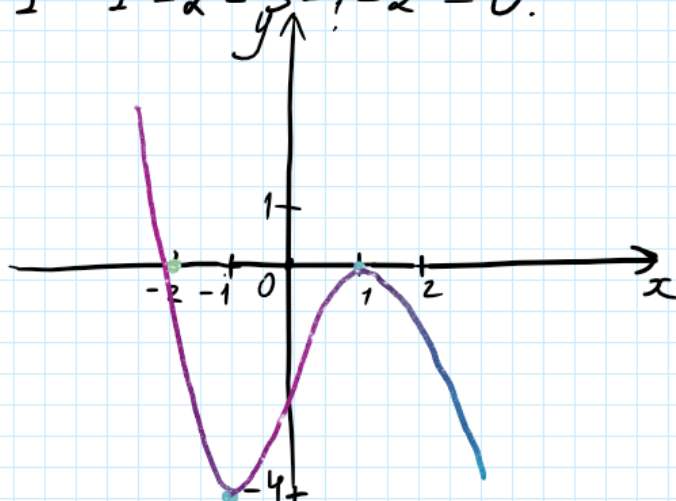
Функция спадает:  $(-\infty; -1] \cup [1; +\infty)$ .

5. Точки экстремума и значения функции в точках экстремума.

$$x_{\min} = -1, \quad f(-1) = 3 \cdot (-1) - (-1)^3 - 2 = -3 + 1 - 2 = -4.$$

$$x_{\max} = 1, \quad f(1) = 3 \cdot 1 - 1^3 - 2 = 3 - 1 - 2 = 0.$$

6. Построение графика.



**Домашнє завдання:** дослідити одну із даних функцій НА ВИБІР:

**2.** Дослідіть дану функцію та побудуйте її графік:

1)  $f(x) = x^3 + 3x^2;$

3)  $f(x) = x - x^3.$

2)  $f(x) = 4x - \frac{1}{3}x^3;$

**Зворотній зв'язок:**

**E-mail** [t.anastasia.igorivna@gmail.com](mailto:t.anastasia.igorivna@gmail.com)